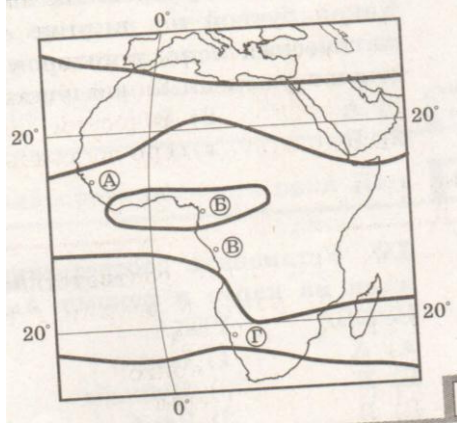
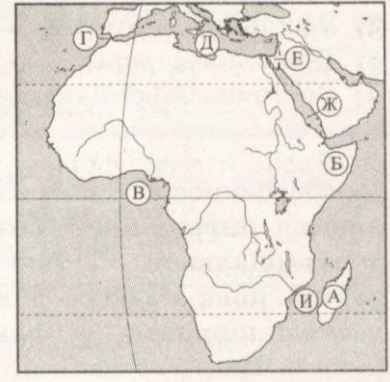
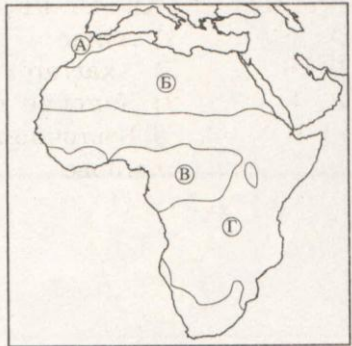
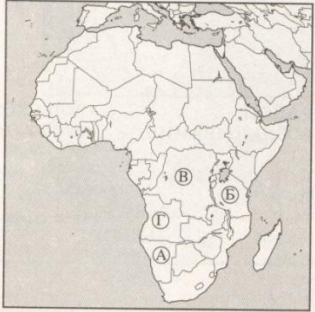


**Итоговая работа по географии «Страны, континенты» 7 класс
1 вариант**

Часть А. Базовый уровень

<p>1. На каком материке наиболее хорошо представлены мезозойские складчатые структуры</p> <ol style="list-style-type: none">1) Африка2) Антарктида3) Евразия4) Южная Америка	<p>2. Где на Земном шаре наблюдаются самые низкие температуры в июле?</p> <ol style="list-style-type: none">1) Северный полюс2) Антарктида3) Якутия4) Гренландия
<p>3. Какое озеро самое крупное по площади в мире?</p> <ol style="list-style-type: none">1) Чад2) Виктория3) Байкал4) Каспийское	<p>4. Какая из перечисленных пустынь расположена в северном тропическом поясе?</p> <ol style="list-style-type: none">1) Калахари2) Сахара3) Атакама4) Намиб
<p>5. Какую функцию выполняет озоновый слой Земли?</p> <ol style="list-style-type: none">1) Необходим всем живым организмам для дыхания2) Защищает Землю от падающих метеоритов3) Задерживает вредное ультрафиолетовое солнечное излучение4) Защищает Землю от переохлаждения и перенагревания	<p>6. На каком материке обитает вомбат и лиросвост?</p> <ol style="list-style-type: none">1) Южная Америка2) Африка3) Северная Америка4) Австралия
<p>7. Какой океан самый глубокий в мире?</p> <ol style="list-style-type: none">1) Тихий2) Северный Ледовитый3) Индийский4) Атлантический	<p>8. Где в Африке образовались глубочайшие впадины вследствие разломов земной коры, многие из которых заполнены водой?</p> <ol style="list-style-type: none">1) Эфиопское нагорье2) Драконовы горы3) Восточно-Африканское плоскогорье4) Горы Атлас

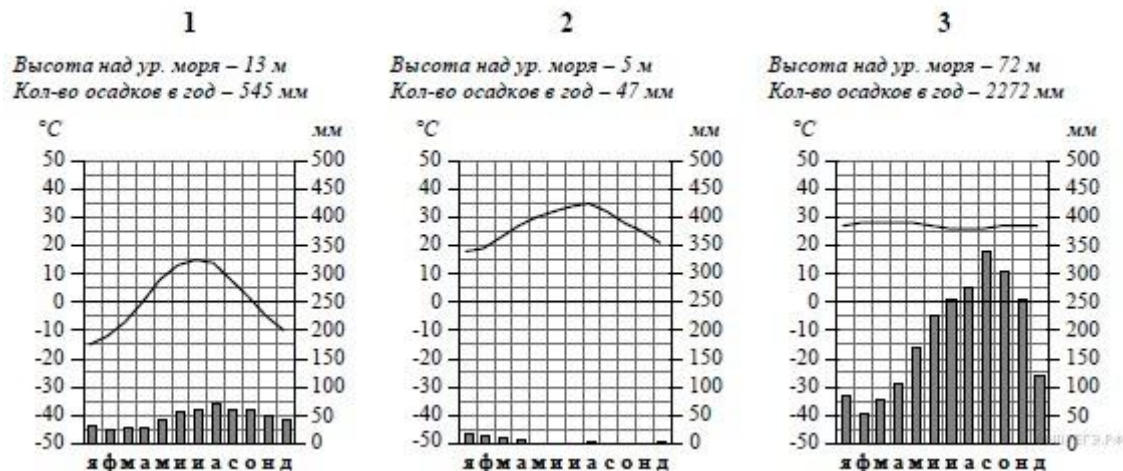
<p>9. На каком из пунктов, обозначенных на карте, выпадает наибольшее количество осадков?</p> <ol style="list-style-type: none"> 1) А 2) Б 3) В 4) Г 		<p>10. На карте Африки буквой Г обозначен</p> <ol style="list-style-type: none"> 1) Гвинейский залив 2) Полуостров Сомали 3) Гибралтарский пролив 4) Мозамбикский пролив 
<p>11. Какой буквой обозначена на карте Африки природная зона пустынь и полупустынь</p> <ol style="list-style-type: none"> 1) А 2) Б 3) В 4) Г 		<p>12. Как называются в Африке потомки переселенцев из Нидерландов</p> <ol style="list-style-type: none"> 1) Буры 2) Бушмены 3) Пигмеи 4) Туареги
<p>13. Какой буквой на карте Африки обозначено государство Ангола?</p> <ol style="list-style-type: none"> 1) А 2) Б 3) В 4) Г 		<p>14. Приподнятым участкам Южно-Американской платформы в рельефе соответствует</p> <ol style="list-style-type: none"> 1) Амазонская низменность 2) Оринокская низменность 3) Ла-Платская низменность 4) Бразильское плоскогорье
<p>15. Какой пролив отделяет Южную Америку от Антарктиды?</p> <ol style="list-style-type: none"> 1) Басов 2) Дрейка 3) Магелланов 4) Берингов 	<p>16. Самая высокая точка Австралии г. Костюшко имеет высоту</p> <ol style="list-style-type: none"> 1) 5895 м 2) 2228 м 3) 4165 м 4) 3563 м 	<p>17. В каких полушариях находится материк Антарктида?</p> <ol style="list-style-type: none"> 1) Северном и западном 2) Южном и восточном 3) Южном, западном и восточном 4) Северном, южном, западном и восточном

<p>18. Какое морское течение проходит у западных берегов Северной Америки?</p> <p>1) Северо-Тихоокеанское 2) Северо-Атлантическое 3) Перуанское 4) Западных ветров</p>	<p>19. В основании каких форм рельефа расположены древние платформы?</p> <p>1) Уральских гор и Западно-Сибирской равнины 2) Западно-Сибирской равнины и Среднесибирского плоскогорья 3) Среднесибирского плоскогорья и Восточно-Европейской равнины 4) Восточно-Европейской равнины и Уральских гор</p>	<p>20. Какая из перечисленных систем Евразии самая высокая?</p> <p>1) Альпы 2) Тибет 3) Алтай 4) Кавказ</p>
<p>Часть В. Повышенный уровень</p>		
<p>1. Расположите горы Евразии в порядке их нахождения с запада на восток</p> <p>1) Урал 2) Пиринеи 3) Карпаты 4) Тянь-Шань</p>	<p>2. Расположите природные зоны Австралии в порядке их размещения с юга на север</p> <p>1) Полупустыни и пустыни 2) Саванны и редколесья 3) Жестколистных вечнозеленых лесов и кустарников</p>	<p>3. Расположите формы рельефа Северной Америки в порядке увеличения их высоты над уровнем моря</p> <p>1) Аппалачи 2) Кордильеры 3) Центральные равнины 4) Примексиканская низменность</p>

4. Узнайте географический объект по его краткому описанию

Форма этого полуострова напоминает треугольник. На его территории расположена крупнейшая страна по численности населения. Столовые плато, прорезанные узкими глубокими долинами рек, похожими на дикие ущелья, придают загадочность облику всей его территории. Во время муссонных дождей реки выходят из берегов, принося немалые бедствия. Поражает разнообразие растительности: здесь растут и зонтичные акации, и пальмы, и бамбуковые рощи, и многоствольное дерево баньян, которого нет больше нигде в мире. Часть полуострова занимают джунгли с вечнозелёными деревьями, увитыми лианами, где даже днём темно от плотной листвы. Среди их обитателей грозный хищник — бенгальский тигр и множество разнообразных птиц. В небольших поселениях и на улицах городов можно встретить слонов — настоящих помощников людей, а также диких обезьян, которые чувствуют себя здесь хозяевами, поскольку считаются священными животными.

5. Рассмотрите рисунки с изображением климатограмм, построенных по данным метеонаблюдений в разных частях Земли, и выполните задания. Определите, какому климатическому поясу соответствует каждая климатограмма. Подпишите название климатического пояса под соответствующей климатограммой.



6. Установите соответствие между географическими особенностями и материками, для которых они характерны: для этого к каждой позиции первого столбца подберите соответствующую позицию из второго столбца.

ГЕОГРАФИЧЕСКИЕ ОСОБЕННОСТИ

- А) Этот материк омывается водами всех океанов.
- Б) Большую часть территории материка занимают две страны.
- В) На территории материка часто возникают сильные ураганные ветры-торнадо.
- Г) На территории материка расположено самое глубокое озеро мира.
- Д) На этом материке расположена самая высокая вершина мира.
- Е) На западе материка расположены молодые горы, а на востоке — старые.

МАТЕРИКИ

- 1) Северная Америка
- 2) Евразия

7. Представьте, что Вам было поручено взять интервью у зарубежного сверстника, чтобы он познакомил Вас со своей страной. Для иллюстрации этого интервью Вы попросили его прислать несколько фотографий, сделанных стране, в которой он живёт.

Рассмотрите фотографии и ответьте на вопросы. В какой стране живёт Ваш сверстник? Как называется столица этой страны?

