

Итоговая контрольная работа по географии «География России» 8 класс

1. Какое из перечисленных морей, омывающих побережье России, является самым большим и глубоким?

- 1) Балтийское
- 2) Белое
- 3) Берингово
- 4) Чёрное

3. С какой из перечисленных стран Россия имеет морскую границу?

- 1) Туркмения
- 2) Турция
- 3) США
- 4) Швеция

5. В каком из перечисленных регионов России распространены чернозёмные почвы?

- 1) Вологодская область
- 2) Пермский край
- 3) Ставропольский край
- 4) Республика Коми

2. На границе с какой из перечисленных стран находится крайняя западная точка территории России?

- 1) Польша
- 2) Финляндия
- 3) КНДР
- 4) Белоруссия

4. В каком из перечисленных регионов России лето наиболее тёплое?

- 1) Калининградская область
- 2) Республика Коми
- 3) Астраханская область
- 4) Республика Карелия

6. Для безопасности людей в сейсмоопасных районах применяется особая технология строительства. В каком из перечисленных регионов необходимо вести сейсмостойкое строительство?

- 1) Тульская область
- 2) Смоленская область
- 3) Ленинградская область
- 4) Сахалинская область

7. Группа школьников из Оренбурга хочет своими глазами увидеть необычную для них природу тундры. Какой из перечисленных заповедников для этого им необходимо посетить?

- 1) Гыданский
- 2) Окский
- 3) Южно-Уральский
- 4) Мордовский

8. В каком году показатель рождаемости был наименьшим?

- 1) 1985 г.
- 2) 1993 г.
- 3) 1999 г.
- 4) 2009 г.



9. Определите миграционный прирост населения Астраханской области в 2010 г. Ответ запишите в виде числа.

Изменение численности населения Астраханской области в 2007–2010 гг.

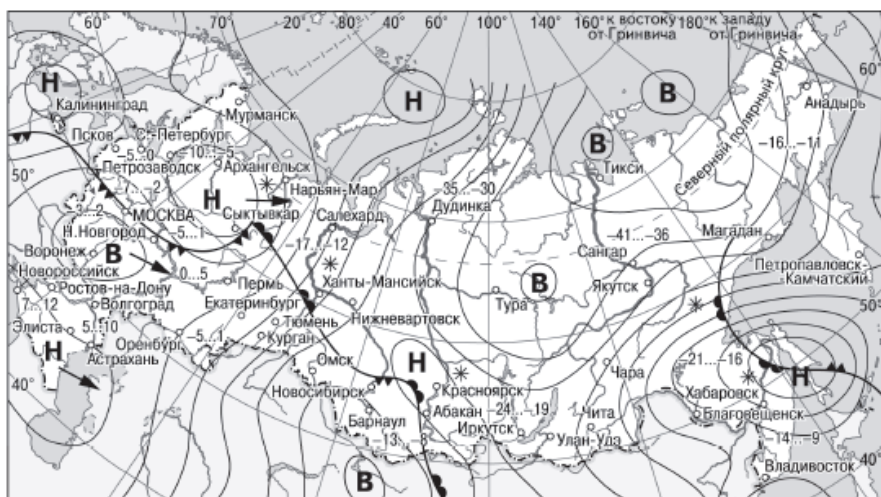
Показатель	2007 г.	2008 г.	2009 г.	2010 г.
Общий прирост населения за год, человек	6747	4367	1872	–381
Естественный прирост населения за год, человек	–615	561	820	671

10. Какой из перечисленных городов является наибольшим по численности населения?

- 1) Екатеринбург
- 2) Владимир
- 3) Смоленск
- 4) Владивосток

11. Какой из перечисленных городов, показанных на карте, находится в зоне действия антициклона?

- 1) Астрахань
- 2) Воронеж
- 3) Петропавловск-Камчатский
- 4) Якутск



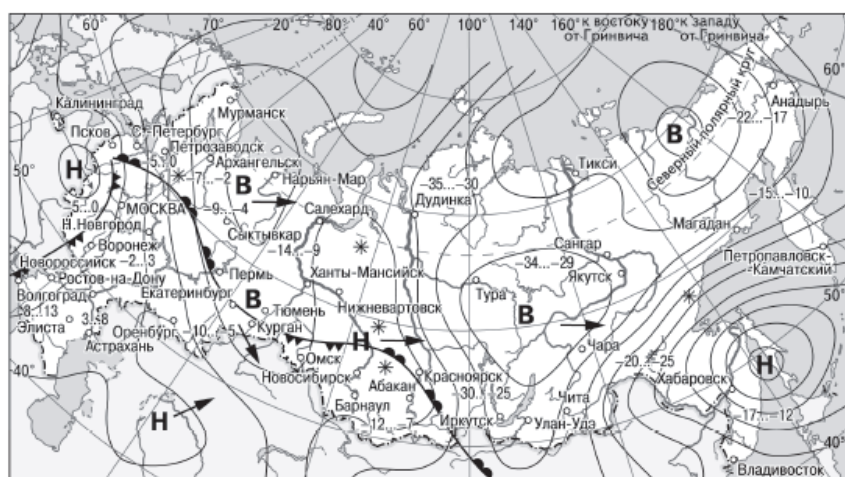
В Область высокого атмосферного давления
Н Область низкого атмосферного давления
 → Направление перемещения циклонов и антициклонов
 Тёплый атмосферный фронт
 Холодный атмосферный фронт
 –35...–30 Температура воздуха (°C)
 * Снег



12. Карта погоды составлена на 5 декабря. В каком из показанных на карте городов на следующий день наиболее вероятно существенное потепление?

- 1) Москва
- 2) Нижний Новгород
- 3) Пермь
- 4) Ханты-Мансийск

13. Примером рационального природопользования является

- 1) избыточное орошение в засушливых районах
- 2) комплексное использование добываемого сырья
- 3) перевод ТЭС с природного газа на уголь
- 4) сплав леса по реке отдельными брёвнами



В Область высокого атмосферного давления
Н Область низкого атмосферного давления
 → Направление перемещения циклонов и антициклонов
 Тёплый атмосферный фронт
 Холодный атмосферный фронт
 –35...–30 Температура воздуха (°C)
 * Снег

14. В каком из высказываний содержится информация о миграциях населения Приволжского федерального округа?

1) В 2012 г. в Приволжском ФО по уровню рождаемости лидировала Удмуртская Республика с коэффициентом 15,3‰.

2) В 2010 г. в Приволжский ФО на постоянное место жительства прибыло 398 446 человек, выбыло из округа – 406 649 человек.

3) В 2011 г. удельный вес городского населения в общей численности населения Приволжского ФО составлял 71%, сельского – 29%.

4) В 2011 г. в Приволжском ФО в семи субъектах – Республике Татарстан, Республике Башкортостан, Удмуртской Республике, Пермском крае, Оренбургской области, Чувашской Республике и Республике Марий Эл – рождаемость превышала смертность.

15. Используя данные таблицы «Пассажирооборот транспорта общего пользования в России в 2011 г.», определите долю железнодорожного транспорта (в %) в общем пассажирообороте. Полученный результат округлите до целого числа.

Пассажирооборот транспорта общего пользования в России в 2011 г., млрд пассажиро-км

Пассажирооборот транспорта общего пользования	443,9
в том числе:	
железнодорожного	139,7
автомобильного (автобусы)	136,9
воздушного (транспортная авиация)	166,6

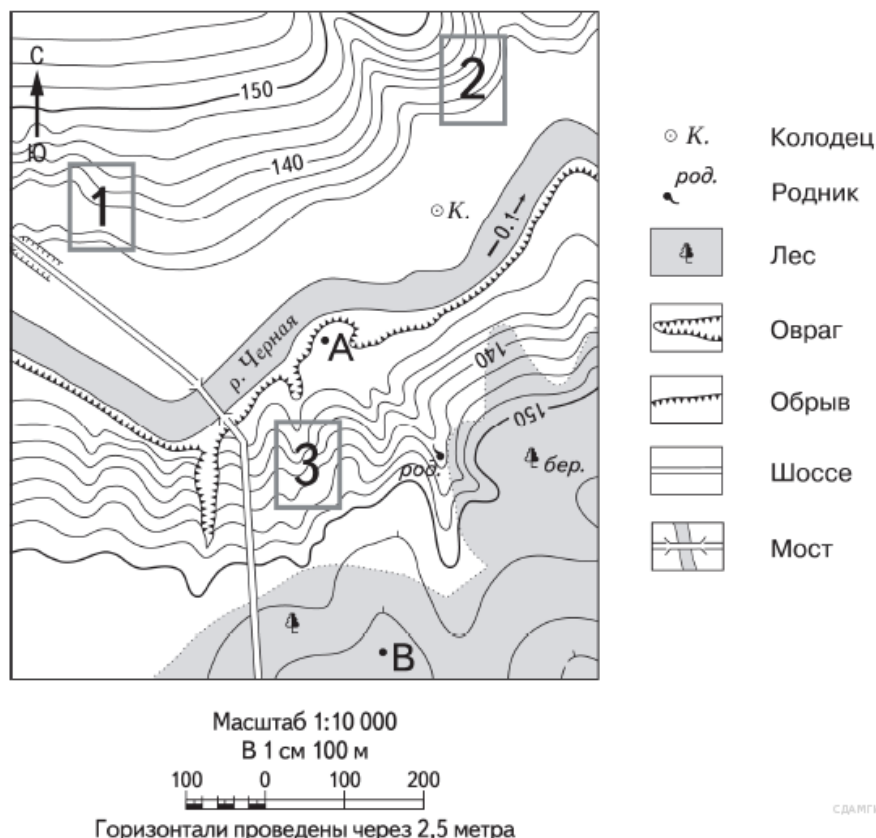
16. Расположите перечисленные ниже города в порядке увеличения их высот над уровнем моря. Запишите в ответ получившуюся последовательность букв.

- А) Оймякон
- Б) Нарьян-Мар
- В) Ставрополь

17. Определите, какой город (административный центр субъекта РФ) имеет географические координаты 43° с.ш. 132° в.д.

Задание с 18 по 20 выполняется по данной карте

18. Определите по карте расстояние на местности по прямой от точки А до родника. Измерение проводите между точкой и центром соответствующего условного знака. Полученный резуль-



тат округлите до десятков метров. Ответ запишите в виде числа.

19. Определите по карте, в каком направлении от точки А находится родник.

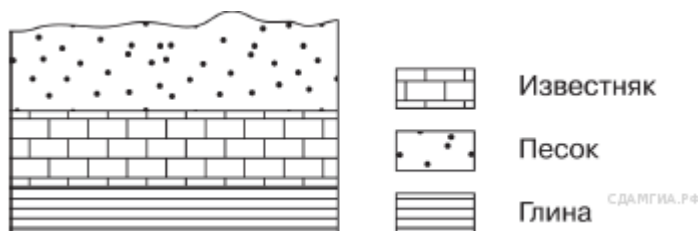
20. Фермер выбирает участок для закладки нового фруктового сада. Ему нужен участок, на котором весной рано сходит снег, а летом почва лучше всего прогревается солнцем. Он также должен иметь расположение, удобное для вывоза собранного урожая на консервный завод. Определите, какой из участков, обозначенных на карте цифрами 1, 2 и 3, больше всего отвечает указанным требованиям. Для обоснования своего ответа приведите два довода.

21. Карты какого географического района России необходимо выбрать, чтобы определить местоположение Приморского края?

- 1) Западной Сибири
- 2) Северо-Запада
- 3) Центральной России
- 4) Дальнего Востока

22. Во время экскурсии учащиеся сделали схематическую зарисовку залегания горных пород на обрыве у берега реки.

Расположите показанные на рисунке слои горных пород в порядке увеличения их возраста (от самого молодого до самого древнего). Запишите в ответ получившуюся последовательность букв.



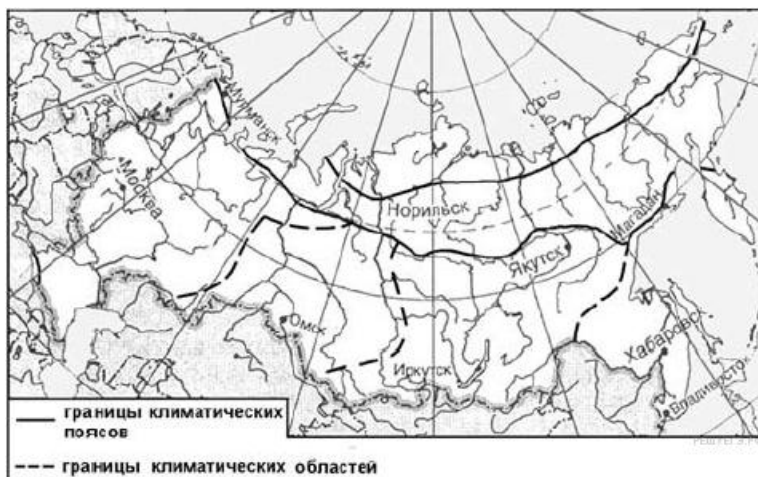
- А) известняк
- Б) песок
- В) глина

23. Расположите регионы России в той последовательности, в которой их жители встречают Новый год. Запишите в ответ получившуюся последовательность букв.

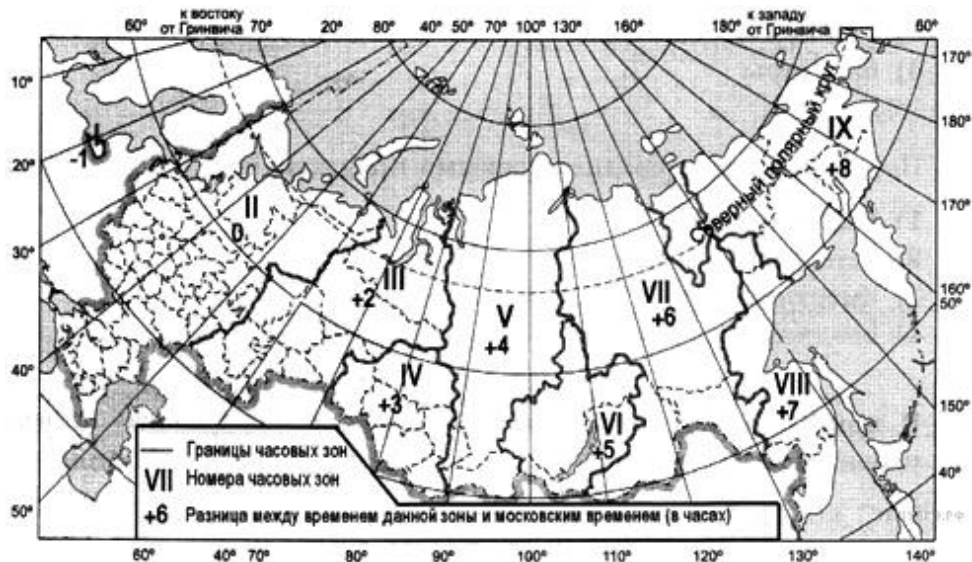
- А) Смоленская область
- Б) Республика Алтай
- В) Пермский край

24. Какой из обозначенных на карте городов расположен в области резко континентального климата умеренного климатического пояса?

- 1) Мурманск
- 2) Омск
- 3) Иркутск
- 4) Хабаровск



25. С помощью карты «Часовые зоны России» определите, сколько времени будет в Красноярске (V часовая зона), когда в Якутске (VII часовая зона) 14 часов.



26. Определите регион по его краткому описанию.

Территория этого края омывается водами двух морей. Его административный центр находится на одинаковом расстоянии от экватора и Северного полюса. Климат на большей части территории края умеренно континентальный, а на побережье — субтропический. Его северную часть занимают степи (2/3 территории), южную — горы (1/3 территории). Основу экономики составляют агропромышленный, курортно-рекреационный, транспортный комплексы.

Ответ: _____ край.